

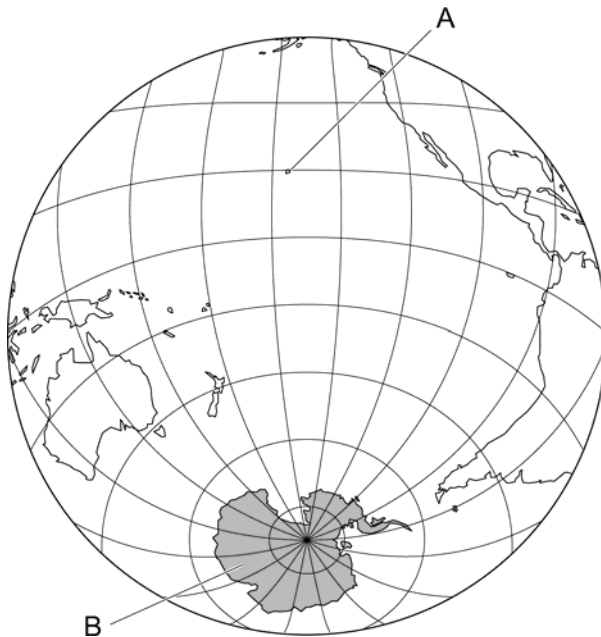
H26 北海道 公立 社会 問題

社-14-公-北海道-問-01

1 次の問いに答えなさい。

問1 略地図1を見て、次の(1)、(2)に答えなさい。

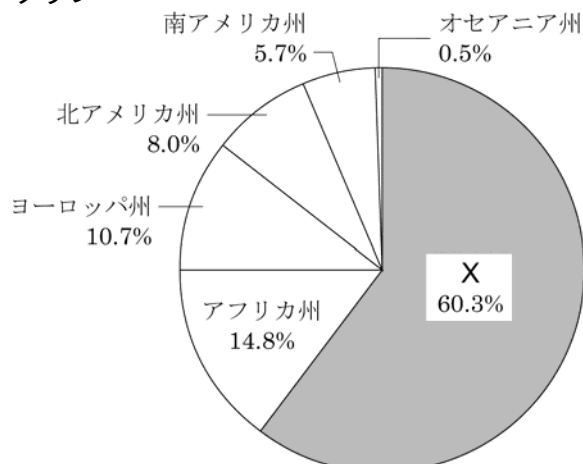
略地図1



- (1) Aはハワイ島を示しています。世界の3つの海洋（三大洋）のうち、ハワイ島が囲まれている海洋の名を書きなさい。
- (2) Bの大陸の名を書きなさい。

問2 グラフは、2009年における世界の6つの州の人口の割合を示したものです。このグラフのXに当てはまる州の名を書きなさい。

グラフ

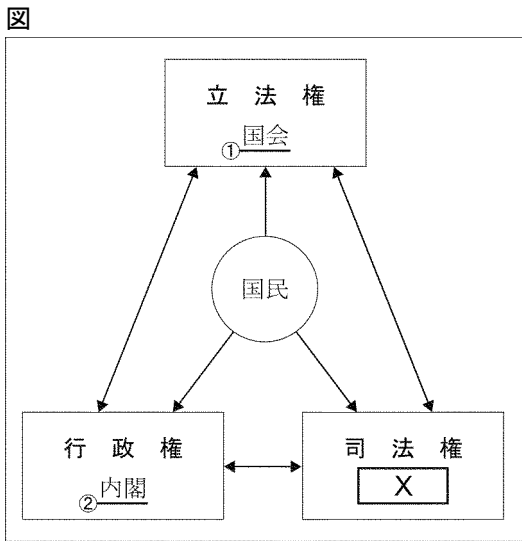


(世界国勢図会 2010/11年版より作成)

問3 次の(1)～(4)に答えなさい。

- (1) 645年、中大兄皇子や中臣鎌足らが蘇我氏をたおして始めた政治の改革を何といいますか、書きなさい。
- (2) 1669年におこった松前藩との大規模な戦いで、アイヌの人々を率いた指導者の名を書きなさい。
- (3) 西洋の測量術を学び、江戸幕府の命を受け、初めて全国各地の沿岸を実測して地図を作成した人の名を書きなさい。
- (4) 1876年に福島県で生まれ、日本やアメリカで細菌学を研究した後、アフリカに渡って黄熱病の研究をした人の名を書きなさい。

問4 図は、わが国の三権の抑制と均衡の関係を示したものです。この図を見て、次の(1)～(3)に答えなさい。



- (1) に当てはまる機関の名を書きなさい。
- (2) 下線部①に関して、次の文の に当てはまる語句を書きなさい。

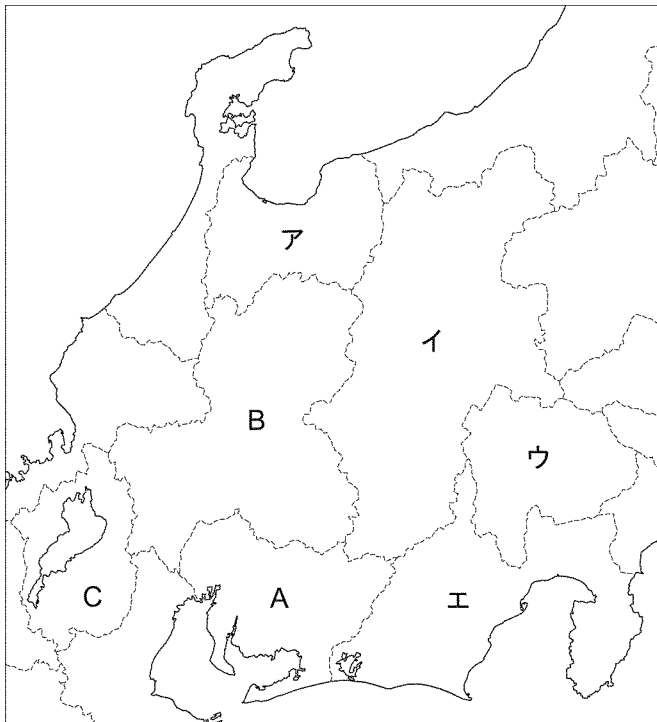
日本国憲法では、「国会は、 の最高機関であって、国の唯一の立法機関である。」(第41条)と定められている。

- (3) 下線部②に関して、次の文の に当てはまる語句を書きなさい。

日本国憲法では、「内閣は、衆議院で不信任の決議案を可決し、又は信任の決議案を否決したときは、10日以内に衆議院が解散されない限り、 をしなければならない。」(第69条)と定められている。

問5 略地図2を見て、次の(1)～(4)に答えなさい。

略地図2



- (1) 2010年における茶の生産量が47都道府県の中で最も多い県を、ア～エから選びなさい。また、その県の名を書きなさい。
- (2) Aの県を中心として広がる、自動車の生産がさかんで2008年の工業生産額が日本で最も多い工業地帯の名を書きなさい。
- (3) Bの県内のある場所では、1600年に徳川家康が石田三成と戦い勝利しました。この戦いの名を書きなさい。
- (4) Cの県にある、日本で最も面積が広い湖の名を書きなさい。

問6 次のA～Cについて、それぞれア～ウのできごとを年代の古い順に並べなさい。

- | | |
|---|--|
| A | ア 古墳がさかんにつくられ埴輪 <small>はにわ</small> が並べられた。 |
| | イ 弥生土器が使われるようになった。 |
| | ウ 縄文土器が使われるようになった。 |
| B | ア 杉田玄白らにより「解体新書」が書かれた。 |
| | イ 紀貫之らにより「古今和歌集」が編集された。 |
| | ウ 福沢諭吉により「学問のすゝめ」が書かれた。 |
| C | ア 岩倉具視らが使節団として欧米に派遣された。 |
| | イ 小野妹子らが遣隋使として隋に派遣された。 |
| | ウ 4人の少年がキリスト教信者の大名の使節としてヨーロッパに派遣された。 |

問7 次の(1)～(4)に答えなさい。

- (1) 国際連合の安全保障理事会は15の理事国で構成されています。この理事会では、重要な議題について、アメリカ、イギリスなど特定の5つの理事国の1か国でも反対すると決定できません。この5つの理事国のことを何といいますか、書きなさい。

- (2) 国際連合の専門機関の一つで、貴重な自然や建造物などを世界遺産として登録し、その保護などに取り組んでいる国連教育科学文化機関の略称を、カタカナ4字で書きなさい。
- (3) ヨーロッパ共同体から発展し、1993年に経済や政治などの面での結びつきの強化をめざして発足した組織を何とといいますか、アルファベット大文字2字で書きなさい。
- (4) 先進工業国（先進国）と発展途上国との間の経済格差、および経済格差から生まれるさまざまな問題のことを何とといいますか、書きなさい。

社-14-公-北海道-問-02

2 次の略年表を見て、問いに答えなさい。

略年表

西暦(年)	できごと
593	聖徳太子が摂政となる
701	① <u>大宝律令</u> がつくられる
1192	源頼朝が② <u>征夷大將軍</u> となる
1404	足利義満が明との貿易を始める
1603	徳川家康が征夷大將軍となる
1854	③ <u>アメリカ</u> との間に日米和親条約が結ばれる
1895	清との間に④ <u>下関条約</u> が結ばれる
1956	⑤ <u>ソ連</u> と国交を回復する

問1 下線部①は、唐の律令にならってつくられました。唐の律令における律と令は、それぞれ何のきまりのことですか、簡単に書きなさい。

問2 下線部②となったことのある人の名を、ア～エから1つ選びなさい。

- ア 北条泰時 イ 豊臣秀吉 ウ 坂上田村麻呂 エ 平清盛

問3 下線部③が行った次のア～エを、年代の古い順に並べなさい。

- ア 日本を占領する連合国軍の最高司令官にマッカーサーを任命した。
- イ 第一次世界大戦の途中から日本と同じ連合国側に加わって参戦した。
- ウ 日本とロシアがポーツマス条約を結ぶ際に仲介をした。
- エ サンフランシスコ講和会議で他国とともに日本との条約を結んだ。

問4 下線部④について、(1)、(2)に答えなさい。

(1) この条約で清が日本に認めた内容として誤っているものを、ア～オから2つ選びなさい。

- ア 香港をゆずり、上海など5港を開港すること。
- イ 遼東半島をゆずりわたすこと。
- ウ 台湾をゆずりわたすこと。
- エ 満州国を建国すること。
- オ 賠償金を支払うこと。

(2) この条約が結ばれた下関のおおよその位置を、略地図のア～エから選びなさい。

略地図



問5 下線部⑤からロシア連邦に引き継がれた領土問題に関して、日本政府がロシア連邦政府に対して返還を求めている、日本固有の領土である北方領土のうち、最も面積が広い島の名を書きなさい。

問6 次のア～ウのできごとは、略年表A～Dのどの時期のことですか、A～Dからそれぞれ選びなさい。

- ア 山城で国一揆がおり、守護大名を追い出して自治が行われた。
- イ 6年ごとにつくられる戸籍にもとづき、6歳以上の人々に口分田があたえられた。
- ウ 新田開発がさかんに行われ、備中びっちゅうぐわ鋤や千歯こきなどの新しい農具が発明された。

3 次の資料は、ある中学生が、経済活動と労働について学習したことをテーマごとにまとめたものの一部です。これを見て、問いに答えなさい。

資料

<p>【身近な生活と経済活動】</p> <ul style="list-style-type: none"> ・私たちの家庭では、得た収入でサービスの購入や貯蓄などを行っている。 ・私たちが①<u>金融機関</u>に貯蓄したお金は、おもに企業に貸し出され、新たなサービスなどを生み出している。 	<p>【働く人たちの権利】</p> <ul style="list-style-type: none"> ・日本国憲法では、勤労の権利と義務が定められている。 ・労働者の権利としては、労働基本権（労働三権）とよばれる②<u>団結権</u>、<u>団体交渉権</u>、<u>団体行動権</u>がある。
<p>【働く環境】</p> <ul style="list-style-type: none"> ・労働時間などの労働条件については、③<u>労働基準法</u>などで定められている。 ・近年は、④<u>年功序列型の賃金（年功賃金）</u>にかえて、仕事の成果などに応じて賃金を支払う企業が増えている。 	<p>【企業の活動】</p> <ul style="list-style-type: none"> ・企業の多くを占める私企業は、商品の生産や⑤<u>流通</u>により、利潤を得ている。 ・私企業は、利潤を得ることを目的に活動する一方で、⑥<u>環境保全</u>について社会的責任を果たすことも求められている。

問1 下線部①ではないものを、ア～オから2つ選びなさい。

- ア 日本銀行
- イ 会計検査院
- ウ 農業協同組合
- エ 損害保険会社
- オ 金融庁

問2 下線部②について、次の表の（ a ）～（ c ）に当てはまるものを、それぞれア～ウから選びなさい。

表

	団結権	団体交渉権	団体行動権
具体的な内容	（ a ）	（ b ）	（ c ）

- ア 労働者が賃金などについて使用者と話し合うことができる。
- イ 労働者が労働条件の改善を求めてストライキを行うことができる。
- ウ 労働者が使用者と交渉するために組織をつくることができる。

問3 下線部③について、次の文の_____線ア～エの中に、1つ誤りがあります。誤りをア～エから選び、正しい語句または数字を書きなさい。

労働基準法は、労働条件のア最低基準を定めた法律である。この法律では、使用者は労働者に、休憩時間を除き、1週間にイ35時間を超えて労働させてはならないことや1日にウ8時間を超えて労働させてはならないこと、また、毎週少なくともエ1回の休日を与えなければならないことなどを定めている。

問4 下線部④とはどのような賃金のしくみですか、簡単に書きなさい。

問5 下線部⑤に関して、POSシステムのしくみについて述べた次の文のうち、正しいものを、ア～オから2つ選びなさい。

- ア 商品の情報がバーコードから読み取られ、すぐに金額が集計される。
- イ インターネットを使って、消費者が商品の情報を入手することができる。
- ウ 購入された商品が、使用後に資源として有効にリサイクルされる。
- エ 自宅で結んだ商品の購入契約をクーリング・オフにより解除することができる。
- オ 小売店で販売した商品の数量などが、コンピュータを通じて本部に伝えられる。

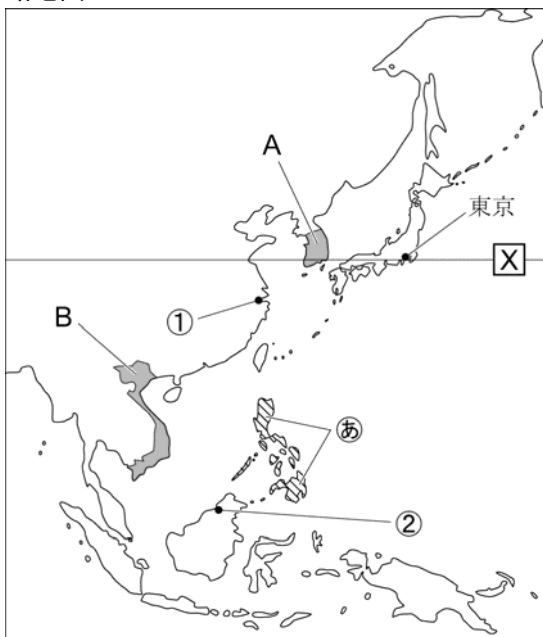
問6 下線部⑥に関する日本でのできごとを、年代の古い順に並べなさい。

- ア 環境の保全についての基本理念を定めた環境基本法が制定された。
- イ 廃棄物を減らすことなどをめざし、循環型社会形成推進基本法が制定された。
- ウ 温室効果ガスの排出削減目標を国別に定めた京都議定書が採択された。
- エ 国民の健康を保護することなどを目的に、公害対策基本法が制定された。

社-14-公-北海道-問-04

4 次の略地図1、2を見て、問いに答えなさい。

略地図1



略地図2



問1 略地図1のXと略地図2のア～エは緯度を示す線です。Xと同じ緯度を示す線を、ア～エから1つ選びなさい。

問2 表1は、略地図1、2の①～④のいずれかの都市の気温と降水量を示したものです。次の(1)、(2)に答えなさい。

表1

	1月	2月	3月	4月	5月	6月	7月	8月	9月	10月	11月	12月
気温(°C)	26.9	27.1	27.6	28.1	27.9	27.8	27.6	27.8	27.5	27.1	27.1	27.1
降水量(mm)	320	191	129	221	250	207	252	240	265	325	340	384

年平均気温 27.5°C 年降水量 3124mm

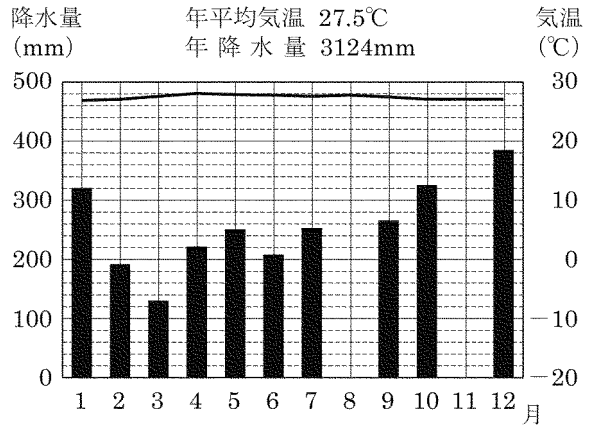
※各月の気温は、月平均気温を示しており、小数第2位を四捨五入したものである。

各月の降水量は、小数第1位を四捨五入したものである。年降水量は、各月の降水量の数値の合計である。

(1) グラフ1は、表1の数値をもとにして作成したものです。一部の月の降水量が未完成となっています。解答用紙に未完成の部分をかき入れ完成させなさい。

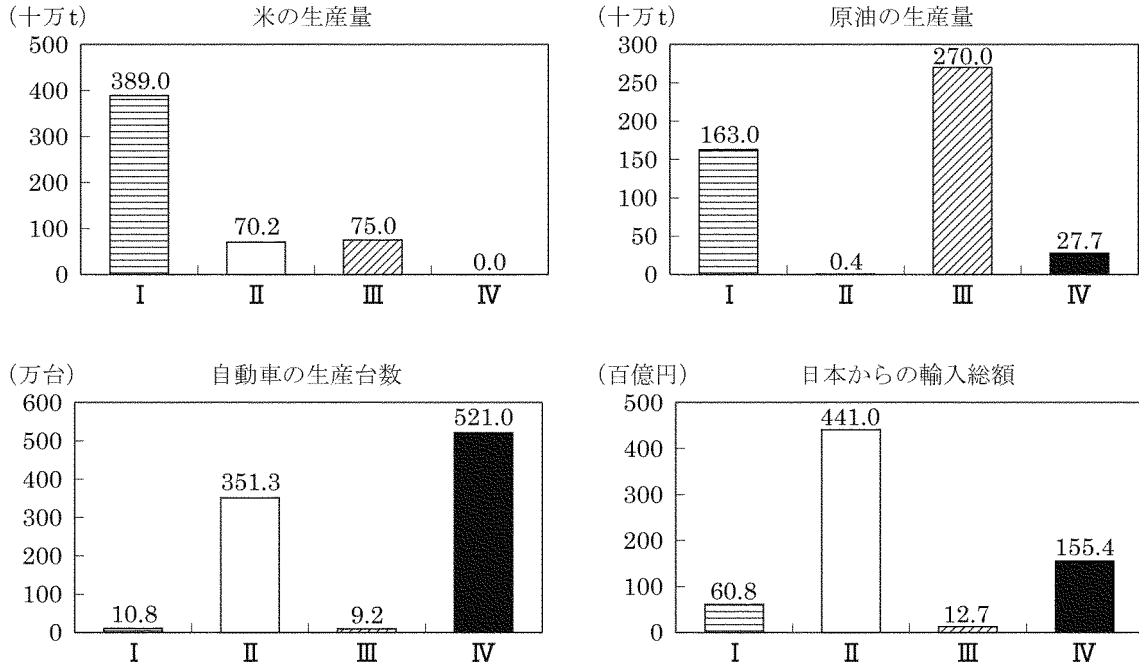
(2) 表1は、①～④のどの都市の気温と降水量を示したものでか、①～④から1つ選びなさい。また、表1のような気温と降水量の特徴がみられる気候帯の名を漢字で書きなさい。

グラフ1



問3 グラフ2は、略地図1, 2のA~Dの国の2009年における米の生産量などをそれぞれ示したもので、I~IVにはA~Dのいずれかの国が当てはまります。I~IVそれぞれに当てはまる国を、A~Dから選びなさい。

グラフ2



(世界国勢図会 2011/12年版, 日本国勢図会 2011/12年版より作成)

問4 略地図1の東京を3月2日午前6時に出発した飛行機が、13時間後に略地図2のロンドンに到着した場合、この飛行機は、ロンドンの日時に3月何日の何時に到着したことになりますか、書きなさい。ただし、時刻については、午前または午後をつけること。

問5 次の(1), (2)に答えなさい。

(1) 略地図1の㊸の国に関して、表2は、ある果実の日本における2010年の生産量、輸入量およびおもな輸入先の国と割合を示したものです。ある果実の名を、次のア~エから1つ選びなさい。

表2

生産量 (百 t)	輸入量 (百 t)	おもな輸入先の国と割合	
		国	割合 (%)
2	11,091	㊸	93.3
		エクアドル	4.2

※ 輸入先の割合は重量にもとづく数値である。

(財務省「貿易統計」より作成)

ア メロン

イ オレンジ

ウ パイナップル

エ バナナ

(2) 表3は、果実など5つの品目について、日本の食料自給率を示したものです。表3から読みとったことがらとして誤っているものを、ア～エから1つ選びなさい。

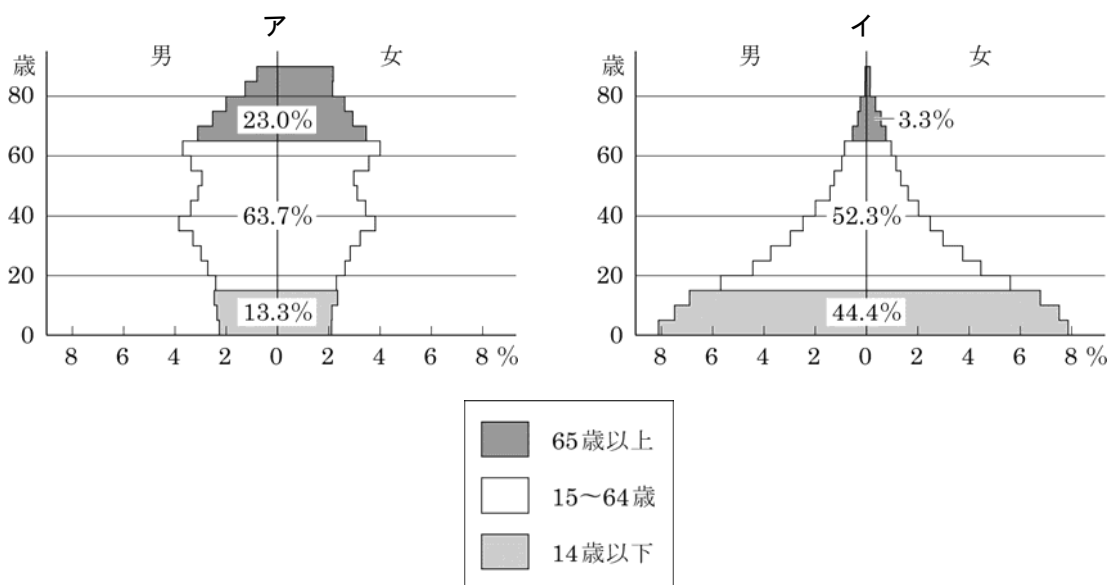
表3 (％)

品目 \ 年度	1970	1980	1990	2000	2010
果実	84	81	63	44	38
野菜	99	97	91	81	81
肉類	89	80	70	52	56
米	106	100	100	95	97
小麦	9	10	15	11	9

(農林水産省「食料需給表」より作成)

- ア 1970年度と2010年度を比較すると、1970年度において自給率が80%を上回っている4つの品目は、いずれも2010年度において自給率が低下している。
- イ 米と小麦を比較すると、4つの年度において米の自給率が小麦の自給率の7倍を上回っており、そのうち2つの年度における米の自給率は、100%を下回っている。
- ウ 果実と野菜と肉類について、1980年度と1990年度をそれぞれ比較すると、自給率が最も大きく低下したのは、野菜である。
- エ それぞれの品目について、1970年度から2010年度までの10年ごとの自給率の変化を比較すると、1990年度と2000年度の間に自給率が低下した品目の数が最も多い。

問6 次のア、イのグラフは、それぞれ略地図2の㉔の国、日本のいずれかにおける2010年の人口ピラミッドです。日本の人口ピラミッドを示すグラフをア、イから選びなさい。また、グラフから読みとれる日本の、総人口に占める老年人口（65歳以上の人口）の割合と、年少人口（14歳以下の人口）の割合とを比べた特徴を、簡単に書きなさい。



※ 85歳以上の人口の割合については、まとめて表記している。(国際連合「世界人口推計2012年版」より作成)

H26 北海道 公立 社会 解答用紙

問題番号		解 答		配点	備 考		
社 会 科 北 海 道 大 学 10	1	問 1	(1)	洋			
			(2)	大陸			
		問 2		州			
		問 3	(1)				
			(2)				
			(3)				
			(4)				
		問 4	(1)				
			(2)				
			(3)				
		問 5	(1)	記号			
				県の名	県		
			(2)		工業地帯		
			(3)		の戦い		
		問 6	A	古い → 新しい			
			B	古い → 新しい			
		C	古い → 新しい				
問 7	(1)		理事国				
	(2)						
	(3)						
	(4)		問題				

問題番号		解 答		配点	備 考	
社一公一北海道交-02	2	問 1				
		問 2				
		問 3	古い → 新しい			
		問 4	(1)			
			(2)			
		問 5		島		
問 6	ア					
	イ					
	ウ					
社一公一北海道交-03	3	問 1				
		問 2	a			
			b			
			c			
		問 3	記号			
			正しい語句または数字			
		問 4				
問 5						
問 6	古い → 新しい					

H26 北海道 公立 社会 解答

問題番号		解 答		配点	備 考			
社 「 下 公 北 海 道 大 二	1	問 1	(1)	太平 洋	1			
			(2)	南極 大陸	1			
		問 2	アジア 州		1			
		問 3	(1)	大化の改新		1	「大化改新」も可。	
			(2)	シャクシャイン		1		
			(3)	伊能忠敬		1		
			(4)	野口英世		1		
		問 4	(1)	裁判所		1		
			(2)	国権		1		
			(3)	総辞職		1		
		問 5	(1)	記号	エ		1	完全解答
				県の名	静岡県			
			(2)	中京 工業地帯		1		
			(3)	関ヶ原 の戦い		1		
		(4)	琵琶 湖		1			
		問 6	A	古い → 新しい			1	完全解答
				ウ	イ	ア		
			B	古い → 新しい			1	完全解答
				イ	ア	ウ		
			C	古い → 新しい			1	完全解答
イ	ウ			ア				
問 7	(1)	常任 理事国		1				
	(2)	ユネスコ		1				
	(3)	EU		1				
	(4)	南北 問題		1				

問題番号		解 答		配点	備 考		
社「ト」公「北海道」大「2」	2	問 1	(正答例) 律は刑罰のきまりのことで、令は政治を行う上でのきまりのこと。		3	内容や表現が不十分な場合は1点とする。	
		問 2	ウ		1		
		問 3	古い → 新しい		2	完全解答	
			ウ	イ			ア
		問 4	(1)	ア		2	完全解答 順不同
			(2)	エ		1	
		問 5	択捉		島	2	
問 6	ア	C		2	完全解答		
	イ	A					
	ウ	D					
社「ト」公「北海道」大「3」	3	問 1	イ	オ	2	完全解答 順不同	
		問 2	a	ウ		2	完全解答
			b	ア			
			c	イ			
		問 3	記号	イ		2	完全解答
			正しい語句または数字	40			
		問 4	(正答例) 年齢とともに賃金が上昇するしくみ。			2	※1 参照
問 5	ア		オ	2	完全解答 順不同		
問 6	古い → 新しい		2	完全解答			
	エ	ア			ウ	イ	

問題番号		解 答		配点	備 考				
社 団 公 北 海 道 大 学	問 1	ウ		1					
	問 2	(1)	降水量 (mm) <table border="1" style="display: inline-table; vertical-align: middle;"> <tr> <td colspan="2">年平均気温 27.5℃</td> </tr> <tr> <td colspan="2">年降水量 3124mm</td> </tr> </table> 気温 (℃)	年平均気温 27.5℃		年降水量 3124mm		1	
		年平均気温 27.5℃							
	年降水量 3124mm								
	4	(2)	記号	②	2	完全解答 漢字指定			
			気候帯	熱 帯					
	問 3	I	B		2	完全解答			
		II	A						
		III	D						
		IV	C						
問 4	3月 2日 午前10時		2						
問 5	(1)	エ		1					
	(2)	ウ		2					
問 6	記号	ア		3	※2参照				
	特徴	(正答例) 老年人口の割合が年少人口の割合より高い。							

(注) 1 「漢字で書きなさい。」と指示しているところ以外は、かなを用いて記入しても正答とする。

2 2の問1, 4の問6以外は、中間点を認めない。

3 その他正答表に示された事項以外のものについては、学校の判断による。

※1 「勤務年数とともに賃金が上昇するしくみ」も可。

※2 記号と特徴が正解の場合は3点、記号のみ正解の場合に限り、中間点1点とする。

社-14-公-北海道-KS-01

- 1** 問1 (1) 三大洋は太平洋, 大西洋, インド洋。ハワイ島は太平洋にある。
 (2) オーストラリア大陸の南に位置する大陸は, 南極大陸である。
- 問2 世界の人口の約60%を占めている州は, アジア州。アジア州には, 世界で最も人口が多い中国, 2番目に多いインドがふくまれる。
- 問3 (1) 中大兄皇子と中臣鎌足が蘇我蝦夷・入鹿をたおして始めた政治改革を, 大化の改新という。土地や人民を国家が支配するという, 公地・公民を原則とした。
 (2) 江戸時代に, アイヌの人々を率いて反乱をおこしたのは, シャクシャイン。松前藩は, アイヌの人々との交易を独占して行っていた。
 (3) 西洋の測量術を使って全国の海岸線を実測し, 正確な日本地図を作成したのは伊能忠敬。
 (4) 福島県出身で, 黄熱病や梅毒の研究をしたのは, 野口英世。
- 問4 (1) 国会は立法権を, 内閣は行政権を, 裁判所は司法権をもつ。
 (2) 国会は, 主権者である国民が直接選んだ代表者によって構成されているので, 国権の最高機関と位置づけられる。
 (3) 衆議院で内閣不信任決議が可決された場合, 内閣は10日以内に衆議院を解散させるか, 総辞職をする。なお, 内閣不信任決議ができるのは, 衆議院のみである。
- 問5 (1) 茶の生産量が最も多いのはエの静岡県。アは富山県, イは長野県, ウは山梨県。
 (2) Aは愛知県である。愛知県を中心に広がる工業地帯は中京工業地帯。中京工業地帯には, 自動車工業がさかんな豊田市などがふくまれる。
 (3) Bは岐阜県である。岐阜県の関ヶ原で1600年におこった関ヶ原の戦いで, 徳川家康は豊臣方の石田三成をやぶり, 全国支配の実権をにぎった。
 (4) Cは滋賀県である。琵琶湖は日本で最も面積が広い湖で, 滋賀県面積の6分の1を占めている。
- 問6 A 縄文時代→弥生時代→古墳時代の順になる。B アは江戸時代, イは平安時代, ウは明治時代のできごと。C アは明治時代, イは飛鳥時代, ウは安土桃山時代のできごと。
- 問7 (1) アメリカ, ロシア, イギリス, フランス, 中国は, 国際連合の安全保障理事会の常任理事国であり, 拒否権をもっている。
 (2) 世界遺産の登録などを行っているのはユネスコ(UNESCO)。
 (3) 1993年に発足したヨーロッパの経済的・政治的統合を進める組織は, EU(ヨーロッパ連合)。2013年現在, 28か国が加盟している。
 (4) 先進工業国(先進国)は北半球に, 発展途上国は南半球に多いことから, 南北問題と呼ばれる。

社-14-公-北海道-KS-02

- 2** 問1 律令にもとづいて政治が行われる国家を律令国家という。
- 問2 坂上田村麻呂は, 平安時代に桓武天皇から征夷大將軍に任命された。当時, 征夷大將軍は, 東北地方の蝦夷を征討する軍を指揮する役職であった。アは鎌倉幕府の執権, イは関白, エは太政大臣となった。
- 問3 ア マッカーサーが連合国軍の最高司令官に任命されたのは, 日本が敗戦した1945年。イ 第一次世界大戦は1914~18年。ウ ポーツマス条約が結ばれたのは1905年。エ サンフランシスコ平和条約が結ばれたのは, 1951年。
- 問4 (1) ア アヘン戦争の際に結ばれた南京条約で, イギリスに認めた内容。エ 満州国が建国されたのは, 満州事変の翌年で1932年のこと。
 (2) 日清戦争の講和条約である下関条約が結ばれたのは, 山口県下関市である。
- 問5 北方領土を面積の広い順に並べると, 択捉島, 国後島, 色丹島, 歯舞群島となる。なお, 択捉島は日本の最北端の島である。

問6 ア 山城で国一揆がおこったのは室町時代後期。イ 戸籍にもとづき6歳以上の男女に口分田をあたえた班田収授法が行われたのは飛鳥時代末から平安時代。ウ 備中鋤や千歯こきが発明されたのは、江戸時代。

社-14-公-北海道-KS-03

- 3 問1 会計検査院は国の収入・支出の決算の検査などを行う機関。金融庁は国の行政機関の1つ。
- 問2 団結権は労働組合をつくる権利、団体交渉権は労働者が使用者と労働条件などを話し合う権利、団体行動権は、労働条件改善などの要求が受け入れられないとき、労働者がストライキなどの団体行動を行う権利。いずれも使用者に対して弱い立場にある労働者を守るための権利である。
- 問3 労働基準法では、労働時間は週40時間以内、1日8時間以内としている。
- 問4 年功序列型の賃金制度は、年齢が上がるほど賃金が上昇するしくみである。かつての日本では、年功序列型賃金で、定年まで同じ企業に勤める終身雇用が一般的だった。
- 問5 POSシステムは販売時点情報管理システムとも呼ばれている。レジで商品のバーコードを読み取ることによって、金額の集計だけでなく、販売日時や販売数など商品に関する情報が蓄積され、その情報を分析することにより、在庫の管理や商品の生産などに生かすシステムである。
- 問6 ア 環境基本法が制定されたのは、1993年。イ 循環型社会形成推進基本法が制定されたのは2000年。ウ 京都議定書が採択されたのは1997年。エ 公害対策基本法が制定されたのは1967年。

社-14-公-北海道-KS-04

- 4 問1 東北地方を通る北緯40度の緯線が、ヨーロッパではイタリアの南部やスペインなどを通る。したがって、Xはアフリカ大陸の北部を通るウと同じ緯度（北緯35度）である。
- 問2 (1) 8月の降水量は240mm、11月の降水量は340mmとなっている。
- (2) 表1から、この都市は気温が年中高く、降水量も多いので、熱帯の気候に属することがわかる。熱帯は赤道付近に分布していることから、①～④の中で赤道に最も近い都市が当てはまる。
- 問3 Aは韓国、Bはベトナム、Cはドイツ、Dはエジプト。Iは米の生産量が最も多いことからベトナム。IIは日本からの輸入額が多く自動車の生産台数も多いことから韓国。IIIは原油の生産量が多いことからエジプト。IVは自動車の生産台数が最も多いことからドイツ。
- 問4 東京とロンドンの時差は9時間。東京の方が時刻が進んでいるから、東京を出発したのはロンドンの時刻で、1日の午後9時となる。ここから13時間後にロンドンに到着したことになる。
- 問5 (1) ㉞はフィリピン。フィリピン、エクアドルから多く輸入しているので、バナナ。
- (2) ウ 果実の自給率は18%、野菜は6%、肉類は10%下がっていることから、自給率が最も大きく低下したのは果実。
- 問6 ㉟はエチオピア。アのグラフは、65歳以上の人口の割合が高く、14歳以下の人口の割合が低い。日本のように少子高齢化が進んだ国では、このようなつぼ型の人口ピラミッドになる。イは多産多死の富士山型の人口ピラミッドで、エチオピアなど発展途上国にみられる。